



**9. Высотная поясность – это** а) закономерность расселения людей в горах б) смена природных зон в горах от подножья к вершине в) смена природных зон и компонентов природы с севера на юг г) строительство оросительных каналов

**10. Как называется прибор, фиксирующий состояние земной коры?**

А) эхолот Б) нивелир В) компас Г) сейсмограф

**11. Каким будет именованный масштаб, если численный – 1: 5 000 000?**

а) 1 см — 50 000 км.    в) 1 см — 5000 км.  
б) 1 см — 500 км.      г) 1 см — 50 км

**12. Наибольшую высоту над уровнем моря среди равнин имеют:**

а) низменности;      в) нагорья;  
б) возвышенности; г) плоскогорья.

**13. Часть земной поверхности, поднимающаяся по линии разломов это:**

а) грабен; б) гребень; в) горст; г) овраг.

**14. Какой пролив разделяет Северную Америку и Евразию?**

а) Торресов  
б) Гибралтарский  
в) Баб-эль-Мандебский  
г) Берингов

**15. Расположите перечисленные периоды геологической истории Земли в хронологическом порядке, начиная с самого раннего:**

1) Силурийский  
2) Ордовикский  
3) Кембрийский

Запишите получившуюся последовательность цифр:

**16. Такие неблагоприятные климатические явления, как засухи, суховеи и пыльные бури, значительно затрудняют хозяйственное использование территории. Они наиболее характерны для следующего региона России:**

1) Кировская область  
2) Камчатский край  
3) Астраханская область  
4) Республика Коми

**Вопрос № 17.** Подумайте, какой известный физико-географический объект объединяет такие страны как Россия, Туркмения, Иран, Казахстан, Азербайджан:

1) Уральские горы  
2) Кавказские горы  
3) Каспийское море  
4) Прикаспийская низменность

**Вопрос № 18.** Выберите из предложенных регионов регион с самой высокой лесистостью территории:

- 1) Московская обл.
- 2) Калининградская обл.
- 3) Оренбургская обл.
- 4) Республика Коми.

**Вопрос № 19.** Направление север – юг указывает:

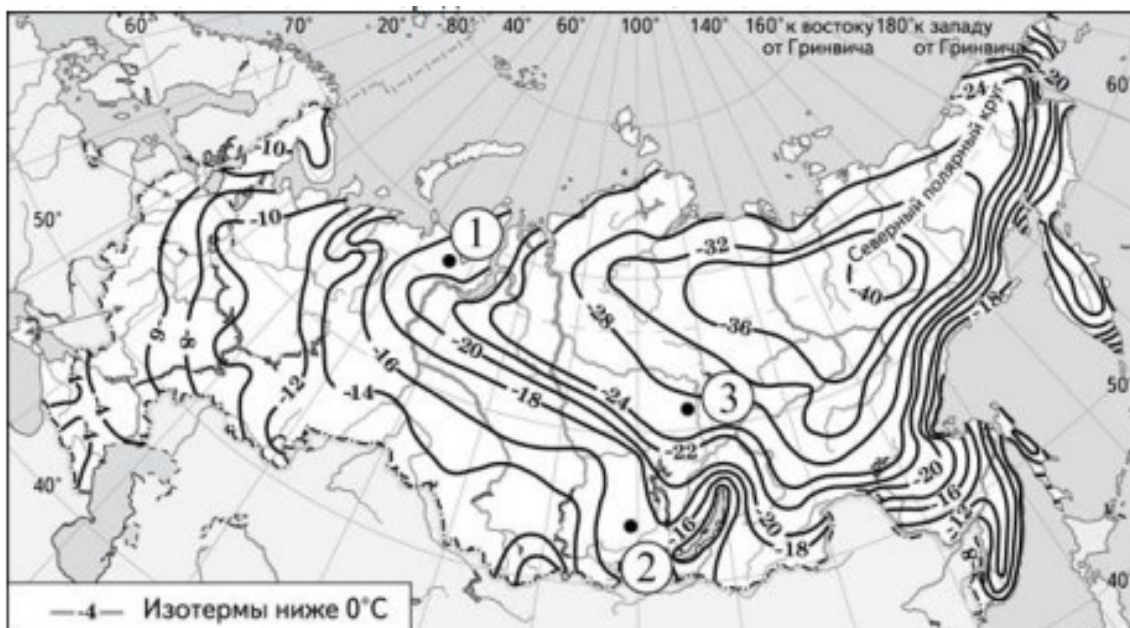
- 1) экватор
- 2) меридиан
- 3) параллель
- 4) только полюс

**Вопрос № 20.** Размещение сахарного завода будет в основном тяготеть к:

- 1) потребителю
- 2) сырью
- 3) транспортным путям
- 4) трудовым ресурсам

## Раздел 2

21. С помощью карты сравните значения средних многолетних минимумов температуры воздуха октября в точках, обозначенных на карте цифрами 1, 2 и 3. Расположите точки в порядке повышения этих значений.



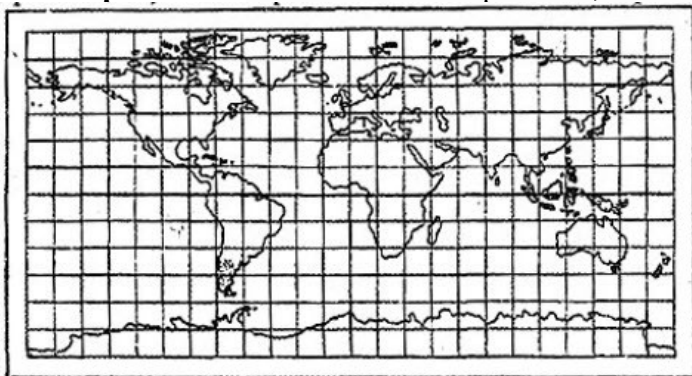
Ответ:

22. Какая еще одна особенность природно-ресурсной базы Иркутской области, кроме упомянутой в тексте, способствовала созданию на её территории крупного целлюлозно-бумажного комбината? Укажите эту особенность.

Город Усть-Илимск является крупным промышленным центром Иркутской области. Здесь построена мощная гидроэлектростанция, обеспечивающая предприятия города дешёвой электроэнергией. Одно из ведущих предприятий города — целлюлозно-бумажный комбинат — водоёмкое производство, использующее воды водохранилища. Его основная продукция — товарная белёная целлюлоза, которая поставляется не только в различные регионы России, но и за рубеж.

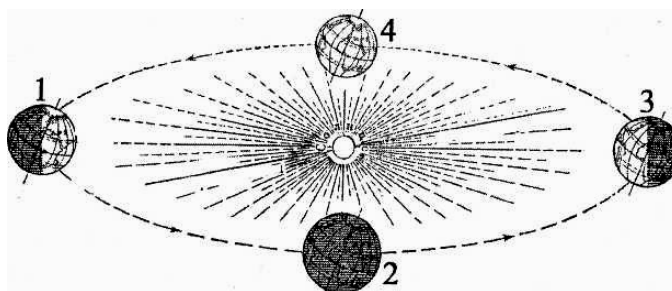
Ответ:

23. Вопрос № 22. Как называется проекция, в которой составлена эта карта?



Ответ:

24. На какой из параллелей: 30° с.ш., 20° с.ш., на экваторе, 20° ю.ш. или 30° ю.ш. - будет наблюдаться минимальная продолжительность дня в день, когда Земля находится на орбите в положении, показанном на рисунке №1 цифрой 3? Запишите ход рассуждений:



Ответ:

25. Какая горная порода лежит в основании многих бугров Бэра и для производства чего она чаще всего используется человеком?

Ответ: